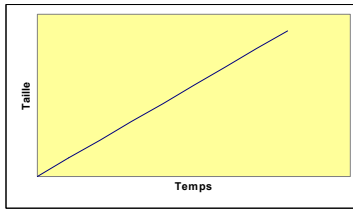


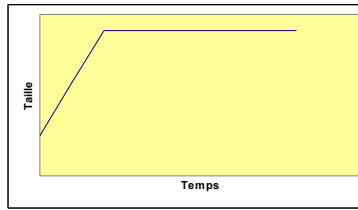


Croissance d'une personne

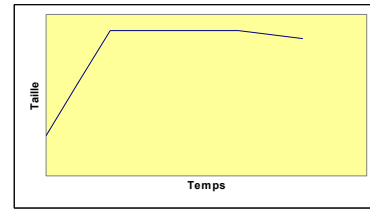
Les diagrammes suivants schématisent l'évolution de la taille d'une personne de sa naissance jusqu'à sa mort. Décrivent-ils fidèlement la réalité ? Pourquoi / pourquoi pas ? Selon toi, qu'est-ce qu'il faudrait changer ?



A



B

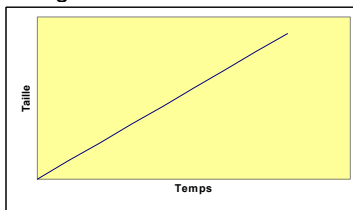


C

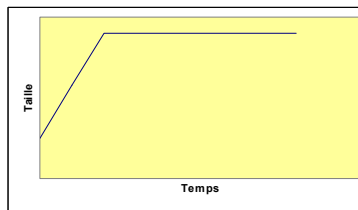


Croissance d'une personne

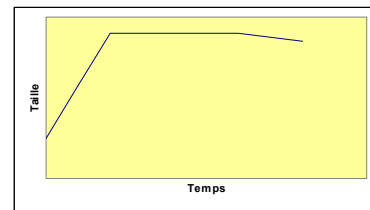
Les diagrammes suivants schématisent l'évolution de la taille d'une personne de sa naissance jusqu'à sa mort. Décrivent-ils fidèlement la réalité ? Pourquoi / pourquoi pas ? Selon toi, qu'est-ce qu'il faudrait changer ?



A



B

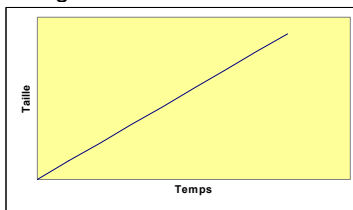


C

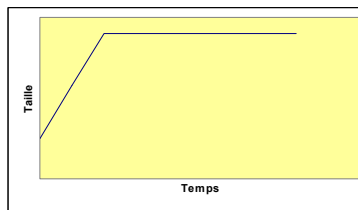


Croissance d'une personne

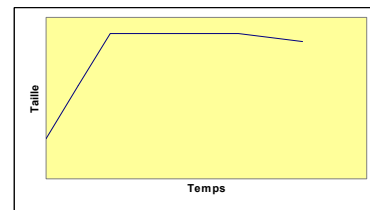
Les diagrammes suivants schématisent l'évolution de la taille d'une personne de sa naissance jusqu'à sa mort. Décrivent-ils fidèlement la réalité ? Pourquoi / pourquoi pas ? Selon toi, qu'est-ce qu'il faudrait changer ?



A



B

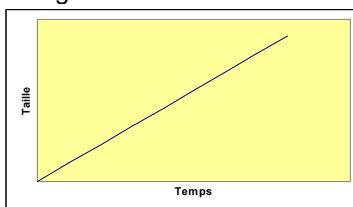


C

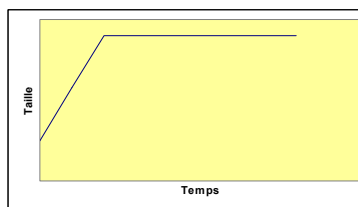


Croissance d'une personne

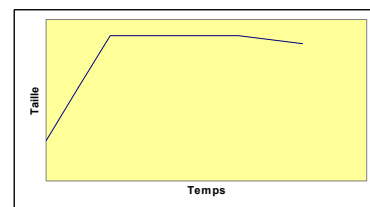
Les diagrammes suivants schématisent l'évolution de la taille d'une personne de sa naissance jusqu'à sa mort. Décrivent-ils fidèlement la réalité ? Pourquoi / pourquoi pas ? Selon toi, qu'est-ce qu'il faudrait changer ?



A



B



C